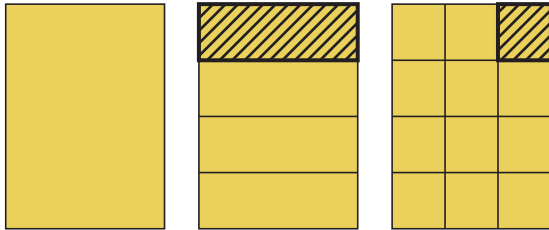


$\frac{1}{3}$ von $\frac{1}{4}$

Weitere Aufgaben für «Grundanforderungen»

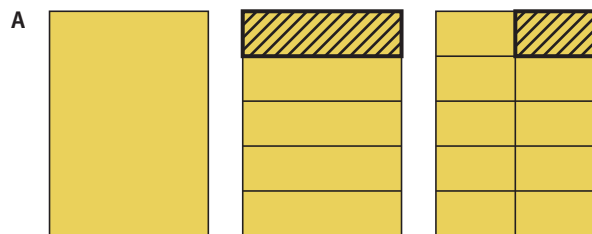
- 1 Welcher Anteil vom Ganzen ist dargestellt?
Notiere die Rechnung und das Ergebnis.

Beispiel:



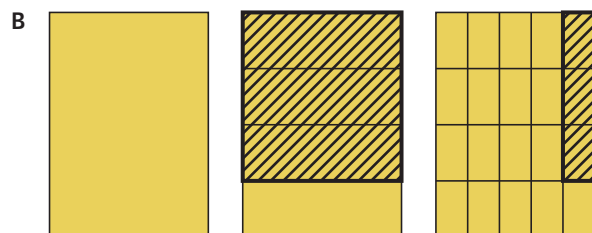
das Ganze

$$\frac{1}{3} \text{ von } \frac{1}{4} = \frac{1}{12}$$



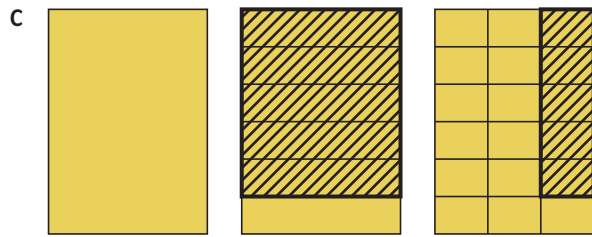
das Ganze

.....



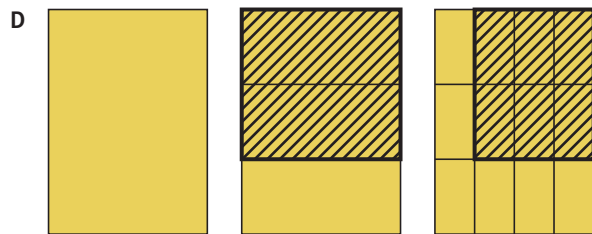
das Ganze

.....



das Ganze


.....



das Ganze


.....

- 2** Wie viel vom Ganzen ist ...?
Stelle deinen Lösungsweg am Rechteckmodell dar.



$$\frac{2}{3} \text{ von } \frac{7}{8} =$$

.....



$$\frac{3}{5} \text{ von } \frac{2}{3} =$$

.....



$$\frac{3}{8} \text{ von } \frac{3}{4} =$$

.....



$$\frac{5}{6} \text{ von } \frac{2}{5} =$$

.....